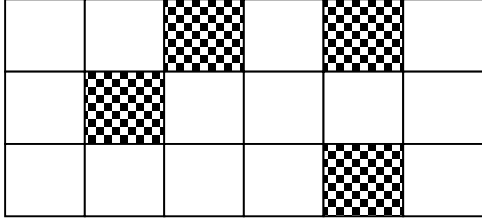


678 , 637 , 25, 326 ஆகிய எண்களை மேலிருந்து கீழாக 34 , 2367 , 6457 என்பன இடமிருந்து வலமாகவும் எழுதப்படவேண்டும்.



8) நான்காவது நிரலில் உள்ள எண் யாது?

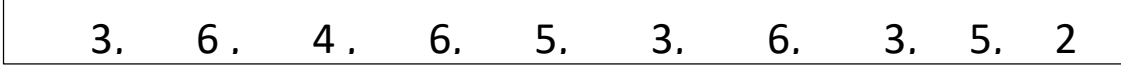
1. 678 2. 637 3. 25

Mr. G. Logeswaran SLPS iii ,B- Com, PGDE

9) மேலிருந்து கீழாக வரும் எண்ணின் இறுதி இலக்கம், இடமிருந்து வலமாக அமையும் எண்ணின் முதல் இலக்கமாகவும் அமைந்துள்ளது அவ்வாறு அமையப்பெற்ற இலக்கம் எது?

1. 3 2. 8 3. 6

10) கீழுள்ள இலக்க நிரையில் இருந்து ஒரு தடவை மாத்திரம் வந்துள்ள இரு இலக்கங்களின் கூட்டுத்தொகையாக அமைவது.



1. 3 2. 6 3. 8

கோஜகனுக்கு சகோதரிகள் இருவரும், சகோதரர்கள் மூவரும் இருந்தனர். அவருடைய அண்ணா தரம் 8 ல் கற்கின்றார். இத்தகவல்களை அடிப்படையாகக் கொண்டு 11 , 12 ம் வினாக்களுக்கு விடைதருக


11) கோஜகன் வீட்டிலுள்ள பிள்ளைகள் எத்தனை பேர்?

1. 5 2. 6 3. 7

12) கோஜகன் வீட்டிலுள்ள ஆண்பிள்ளைகளின் எண்ணிக்கை பெண்பிள்ளைகளின் எண்ணிக்கையில் இருமடங்காகும். இக்கூற்று

1. சரியானது 2. பிழையானது 3. கூறமுடியாது

13)

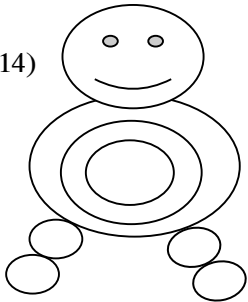


13) உருவில் நிழற்றப்பட்ட பகுதி முழு உருவில் என்ன அளவாகும்.

1. அரைவாசியிலும் குறைவாகும்
2. அரைவாசியிலும் கூடுதலாகும்
3. அரைவாசியாகும்

Mr. G. Logeswaran SLPS iii B-COM. PGDE

14)



14) இவ்வுருவில் காணப்படும் முழு வட்டவடிவங்கள் எத்தனை

1. 10 2. 11 3. 9

